

# Fundamentos de Control

M.I. Ulises A. Pérez Ventura

Contacto:

Posgrado de Ingeniería (Edificio T),  
en el laboratorio de Modos Deslizantes (segundo piso)

*[econtrolfi@gmail.com](mailto:econtrolfi@gmail.com)*

# Ejercicios para el Tema 3:

## Estabilidad de Sistemas de Control

## Ejercicio 1

Utilice el criterio de Routh para determinar las condiciones necesarias y suficientes que garantizan **estabilidad** en sistemas de **primer orden**, dada su ecuación característica

$$a_1s + a_0 = 0.$$

## Ejercicio2

Aplique el criterio de Routh para determinar las condiciones necesarias y suficientes que aseguran **estabilidad** en sistemas de **segundo orden**, dada su ecuación característica

$$a_2s^2 + a_1s + a_0 = 0.$$

# Solución de los Ejercicios 1 y 2

## EC de Primer Orden

$$a_1s + a_0 = 0$$

## Arreglo de coeficientes

$s^1$	$a_1$	0
$s^0$	$a_0$	0

## Condiciones de Estabilidad

- Necesidad y Suficiencia:

$$a_1, a_0 > 0$$

## EC de Segundo Orden

$$a_2s^2 + a_1s + a_0 = 0$$

## Arreglo de coeficientes

$s^2$	$a_2$	$a_0$
$s^1$	$a_1$	0
$s^0$	$a_0$	0

## Condiciones de Estabilidad

- Necesidad y Suficiencia:

$$a_2, a_1, a_0 > 0$$

## Ejercicio 3

Utilice el criterio de Routh para determinar las condiciones necesarias y suficientes que garantizan **estabilidad** en sistemas de **tercer orden**, dada su ecuación característica

$$a_3s^3 + a_2s^2 + a_1s + a_0 = 0.$$

## Solución del Ejercicio 3

### EC de Tercer Orden

$$a_3s^3 + a_2s^2 + a_1s + a_0 = 0$$

### Arreglo de coeficientes

$s^3$	$a_3$	$a_1$
$s^2$	$a_2$	$a_0$
$s^1$	$\frac{a_2a_1 - a_3a_0}{a_2}$	0
$s^0$	$a_0$	0

### Condiciones de Estabilidad

- Necesidad:  
 $a_3, a_2, a_1, a_0 > 0$
- Suficiencia:  
 $a_2a_1 - a_3a_0 > 0$

## Ejercicio 4

Utilice el criterio de Routh para estudiar la **estabilidad** de un sistema con ecuación característica,

$$s^3 + 2s^2 + s + 2 = 0.$$

## Solución del Ejercicio 4

### Caso Especial 1

¿Qué hacer cuando algún elemento de la primera columna es cero y existen elementos sobrantes diferentes de cero?. Sea

$$s^3 + 2s^2 + s + 2 = 0$$

#### Arreglo de coeficientes

$s^3$	1	1
$s^2$	2	2
$s^1$	$0 \approx \varepsilon$	0
$s^0$	2	0

#### Observación

Como los coeficientes por encima y por debajo de  $\varepsilon$  son positivos (**no hay cambios de signo<sup>†</sup>**), se puede asegurar que existen dos raíces conjugadas **sobre el eje imaginario** (estabilidad crítica).

<sup>†</sup>Note que si hubiera **cambios de signo** el sistema sería **inestable**.



## Ejercicio 5

Utilice el criterio de Routh para estudiar la **estabilidad** de un sistema con ecuación característica,

$$s^5 + 2s^4 + 24s^3 + 48s^2 - 25s - 50 = 0.$$

## Solución del Ejercicio 5

### Caso Especial 2 (generalización del Caso Especial 1)

¿Qué hacer cuando todos los coeficientes de algún renglón derivado son cero?. Sea

$$s^5 + 2s^4 + 24s^3 + 48s^2 - 25s - 50 = 0$$

#### Arreglo de coeficientes

$s^5$	1	24	-25
$s^4$	2	48	-50
$s^3$	0	0	0

Se construye el *polinomio auxiliar*

$$P(s) = 2s^4 + 48s^2 - 50$$

↓

$$\frac{dP(s)}{ds} = 8s^3 + 96s$$

#### Arreglo de coeficientes *auxiliar*

$s^5$	1	24	-25
$s^4$	2	48	-50
$s^3$	8	96	0
$s^2$	24	-50	0
$s^1$	112.7	0	0
$s^0$	-50	0	0

## Solución del Ejercicio 5

### Observación

La *fila de ceros* indica que hay **raíces de igual magnitud**<sup>†</sup>. Dichas raíces se obtienen al **resolver el polinomio auxiliar**:

$$P(s) = 2s^4 + 48s^2 - 50 = 0$$
$$\Downarrow$$
$$s = \pm 1, \quad s = \pm j5$$

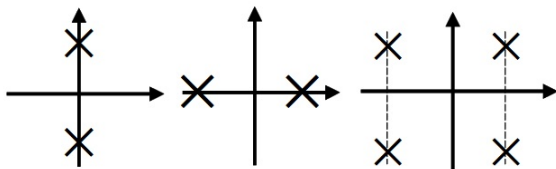


Figura: Posibles raíces de igual magnitud

<sup>†</sup>Note que estos sistemas pueden ser **críticamente estables**, o bien, **inestables**.

## Ejercicio 6

Bosqueje la **traza de Nyquist** del sistema cuya función de transferencia de lazo abierto es

$$G(s) = \frac{K}{s(s+4)(s+5)}.$$

Utilice el *principio del argumento* para determinar los valores de la ganancia  $K > 0$  que garantizan **estabilidad de lazo cerrado**.

## Solución del Ejercicio 6

Sistema Tipo 1

$$G(s) = \frac{K}{s(s+4)(s+5)}$$

FT Senoidal

$$G(j\omega) = \frac{K}{j\omega(j\omega+4)(j\omega+5)}$$

Partes Real e Imaginaria

$$G(j\omega) = \frac{-9K}{\omega^4 + 41\omega^2 + 400} - j \frac{(20 - \omega^2)K}{\omega^5 + 41\omega^3 + 400\omega}$$

## Solución del Ejercicio 6

### Tramo 1

Para  $\omega \rightarrow 0$

$$\begin{aligned} G(j0) &= \frac{-9K}{(0)^4 + 41(0)^2 + 400} - j \frac{(20 - (0)^2)K}{(0)^5 + 41(0)^3 + 400(0)} \\ &= -\frac{9K}{400} - j\infty; \quad \text{Tercer Cuadrante} \end{aligned}$$

Para  $\omega \rightarrow \infty$

$$\begin{aligned} G(j\infty) &= \frac{-9K}{(\infty)^4 + 41(\infty)^2 + 400} - j \frac{(20 - (\infty)^2)K}{(\infty)^5 + 41(\infty)^3 + 400(\infty)} \\ &= -0 + j0; \quad \text{Segundo Cuadrante} \end{aligned}$$

⊛ Si se tienen dudas acerca de las evaluaciones, se recomienda utilizar valores muy pequeños para aproximar  $\omega = 0$  y valores muy grandes para aproximar  $\omega \rightarrow \infty$ .

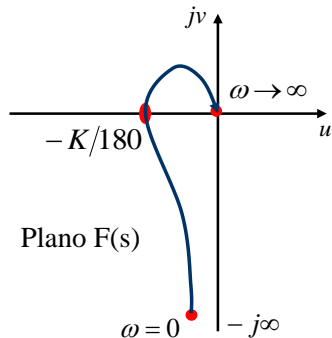
## Solución del Ejercicio 6

¡Existe cruce con el eje real!

$$\text{Im}\{G(j\omega)\} = -\frac{(20 - \omega^2)K}{\omega^5 + 41\omega^3 + 400\omega} = 0$$

cuya solución es  $\omega = \sqrt{20}$ . Sustituyendo en la parte real se obtiene el cruce

$$\text{Re}\{G(j\sqrt{20})\} = \frac{-K}{180}$$



Criterio de Estabilidad de Nyquist

Dado que  $G(s)$  no tiene polos inestables, no debe haber rodeos al punto  $(-1 + j0)$ .

Estabilidad

$$0 < K < 180$$

## Solución del Ejercicio 6

### Tramo 2

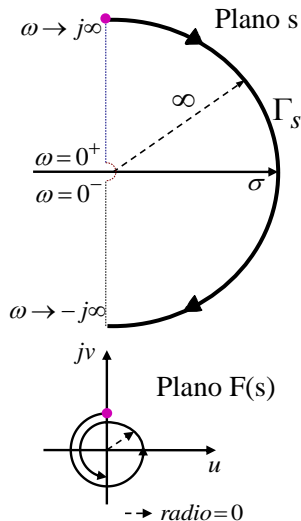
Se cambia la variable  $s$  por un semi-círculo de radio infinito,  $\Gamma e^{j\theta}$  con  $\theta \in [-90^\circ, 90^\circ]$ .

$$G(s) = \frac{K}{\Gamma e^{j\theta}(\Gamma e^{j\theta} + 4)(\Gamma e^{j\theta} + 5)} \approx \frac{K}{\Gamma e^{j3\theta}}$$

Dado el radio infinito  $\Gamma$ ,

$$G(s) \approx 0e^{-j3\theta}$$

se mapean **tres semicírculos** de radio cero, **empezando en  $-270^\circ$** , con dirección **antihoraria**.





## Solución del Ejercicio 6

### Tramo 4

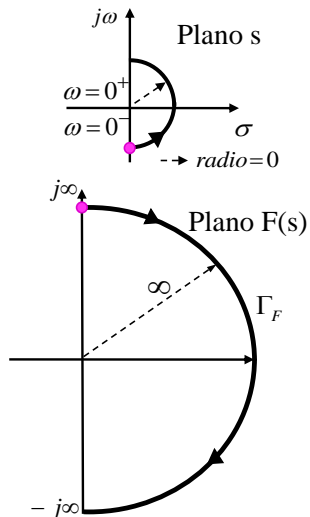
Se cambia la variable  $s$  por un semi-círculo de radio cero,  $\varepsilon e^{j\theta}$  con  $\theta \in [-90^\circ, 90^\circ]$ .

$$G(s) = \frac{K}{\varepsilon e^{j\theta}(\varepsilon e^{j\theta} + 4)(\varepsilon e^{j\theta} + 5)} \approx \frac{K}{\varepsilon e^{j\theta}}$$

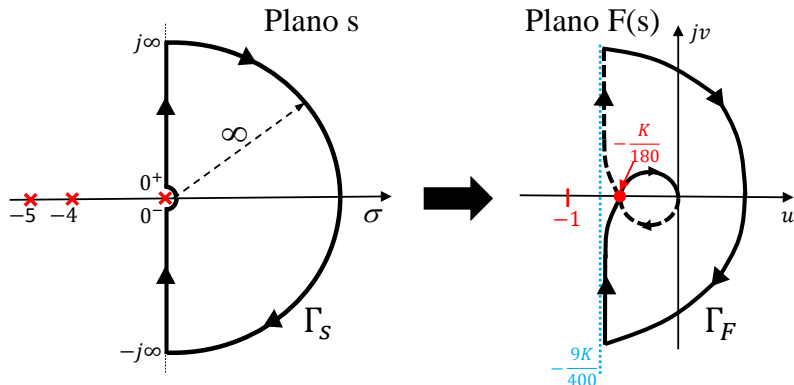
Dado el radio  $\varepsilon$  cercano a cero,

$$G(s) \approx \infty e^{-j\theta}$$

se mapea **un semicírculo** de radio infinito, **comenzando en  $90^\circ$** , con dirección **horaria**.



## Solución del Ejercicio 6 (Principio del Argumento)



El contorno  $\Gamma_S$  no rodea **ningún polo** de  $G(s)$ , i.e.  $P = 0$ . Para que  $F(s) = 1 + G(s)$  no tenga ceros en el semiplano derecho del plano complejo ( $Z = 0$ ), se debe cumplir  $Z = N + P = 0 \Rightarrow N = 0$ , es decir, **no debe haber ningún encirculamiento** del punto  $(-1, j0)$ .

# Solución del Ejercicio 6 (Matlab)

## Matlab

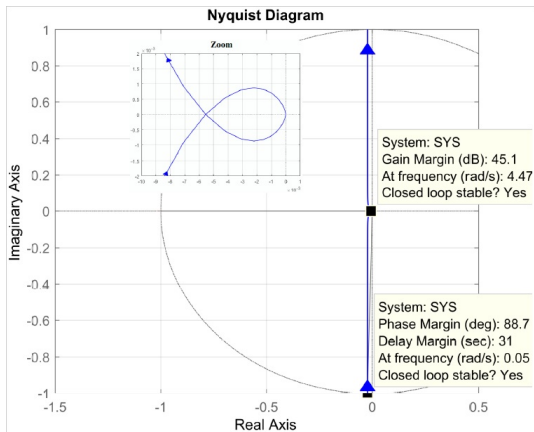
```
K=1;  
SYS=tf([K],[1 9 20 0]);  
figure;  
nyquist(SYS);
```

### Márgenes de Estabilidad

$$MF = 88.7 [^\circ]$$

$$MG = 45.1 \text{ [dB]} \text{ (180)}$$

**Estable en lazo cerrado.**



## Ejercicio 7

Bosqueje la **traza de Nyquist** del sistema cuya función de transferencia de lazo abierto es

$$G(s) = \frac{K(s + 1)}{s(s - 2)(s + 4)}.$$

Utilice el *principio del argumento* para determinar los valores de la ganancia  $K > 0$  que garantizan **estabilidad de lazo cerrado**.

## Solución del Ejercicio 7

Sistema Tipo 1

$$G(s) = \frac{K(s+1)}{s(s-2)(s+4)}$$

FT Senoidal

$$G(j\omega) = \frac{K(j\omega+1)}{j\omega(j\omega-2)(j\omega+4)}$$

Partes Real e Imaginaria

$$G(j\omega) = \frac{-(\omega^2 + 10)K}{\omega^4 + 20\omega^2 + 64} - j \frac{(\omega^2 - 8)K}{\omega^5 + 20\omega^3 + 64\omega}$$

## Solución del Ejercicio 7

### Tramo 1

Para  $\omega \rightarrow 0$

$$\begin{aligned} G(j0) &= \frac{-((0)^2 + 10)K}{(0)^4 + 20(0)^2 + 64} - j \frac{((0)^2 - 8)K}{(0)^5 + 20(0)^3 + 64(0)} \\ &= -\frac{5K}{32} + j\infty; \quad \text{Segundo Cuadrante} \end{aligned}$$

Para  $\omega \rightarrow \infty$

$$\begin{aligned} G(j\infty) &= \frac{-((\infty)^2 + 10)K}{(\infty)^4 + 20(\infty)^2 + 64} - j \frac{((\infty)^2 - 8)K}{(\infty)^5 + 20(\infty)^3 + 64(\infty)} \\ &= -0 - j0; \quad \text{Tercer Cuadrante} \end{aligned}$$

⊛ Si se tienen dudas acerca de las evaluaciones, se recomienda utilizar valores muy pequeños para aproximar  $\omega = 0$  y valores muy grandes para aproximar  $\omega \rightarrow \infty$ .

## Solución del Ejercicio 7

¡Existe cruce con el eje real!

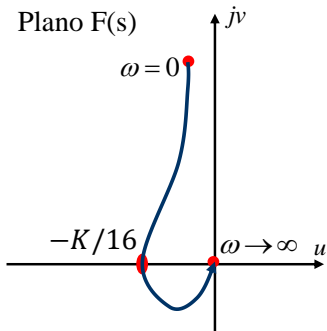
$$\text{Im}\{G(j\omega)\} = -\frac{(\omega^2 - 8)K}{\omega^5 + 20\omega^3 + 64\omega} = 0$$

cuya solución es  $\omega = \sqrt{8}$ . Sustituyendo en la parte real se obtiene el cruce

$$\text{Re}\{G(j\sqrt{8})\} = \frac{-K}{16}$$

Criterio de Estabilidad de Nyquist

Dado que  $G(s)$  tiene **un polo inestable**, debe haber **un rodeo** al punto  $(-1 + j0)$  en sentido **antihorario**.



Estabilidad

$$K > 16$$

## Solución del Ejercicio 7

### Tramo 2

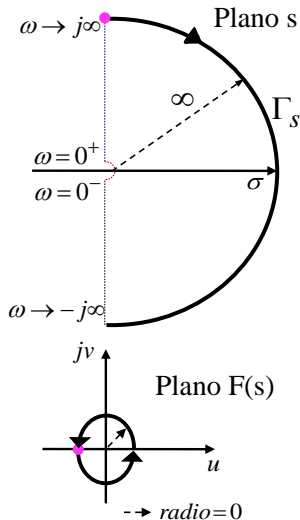
Se cambia la variable  $s$  por un semi-círculo de radio infinito,  $\Gamma e^{j\theta}$  con  $\theta \in [-90^\circ, 90^\circ]$ ,

$$G(s) = \frac{K(\Gamma e^{j\theta} + 1)}{\Gamma e^{j\theta}(\Gamma e^{j\theta} - 2)(\Gamma e^{j\theta} + 4)} \approx \frac{K}{\Gamma e^{j2\theta}}$$

Dado el radio infinito  $\Gamma$ ,

$$G(s) \approx 0e^{-j2\theta}$$

se mapean **dos semicírculos** de radio cero, **empezando en  $-180^\circ$** , con dirección **antihoraria**.





## Solución del Ejercicio 7

### Tramo 4

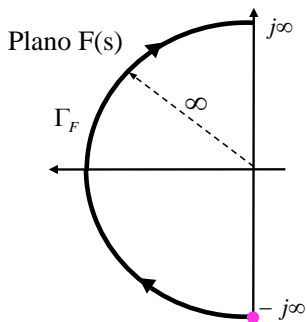
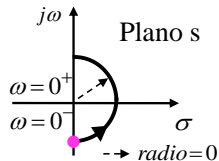
Se cambia la variable  $s$  por un semi-círculo de radio cero,  $\varepsilon e^{j\theta}$  con  $\theta \in [-90^\circ, 90^\circ]$ .

$$G(s) = \frac{K(\varepsilon e^{j\theta} + 1)}{\varepsilon e^{j\theta}(\varepsilon e^{j\theta} - 2)(\varepsilon e^{j\theta} + 4)} \approx \frac{-K}{\varepsilon e^{j\theta} e^{\pm j180^\circ}}$$

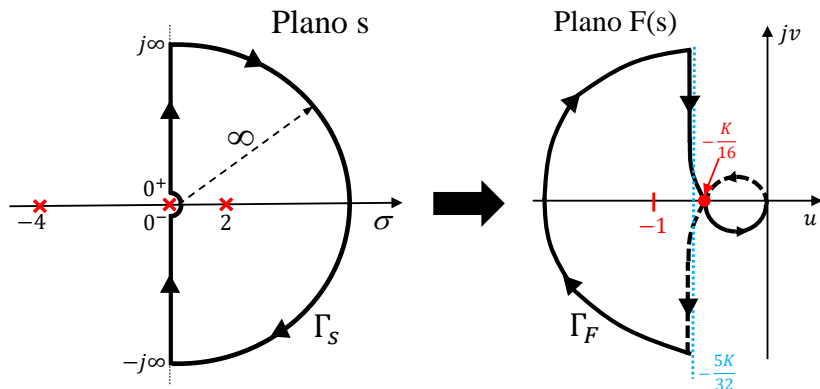
Dado el radio  $\varepsilon$  cercano a cero,

$$G(s) \approx \infty e^{-j(\theta \pm 180^\circ)}$$

se mapea **un semicírculo** de radio infinito, comenzando en  $-90^\circ$ , con dirección **horaria**.



## Solución del Ejercicio 7 (Principio del Argumento)



El contorno  $\Gamma_S$  rodea **un polo** de  $G(s)$ , i.e.  $P = 1$ . Para que  $F(s)$  no tenga ceros en el semiplano derecho del plano complejo ( $Z = 0$ ), se debe cumplir  $Z = N + P = 0 \Rightarrow N = -1$ , es decir, **debe haber un encirculamiento** del punto  $(-1, j0)$  en sentido **antihorario**.

# Solución del Ejercicio 7 (Matlab)

## Matlab

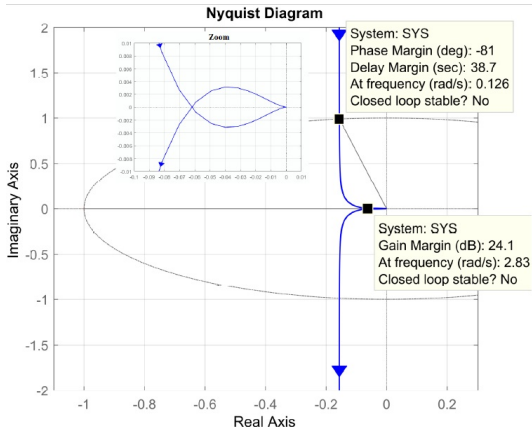
```
K=1;  
SYS=tf([K K],[1 2 -8 0]);  
figure;  
nyquist(SYS);
```

### Márgenes de Estabilidad

$$MF = -81 [^\circ]$$

$$MG = 24.1 \text{ [dB]} \text{ (16)}$$

**Inestable en lazo cerrado.**



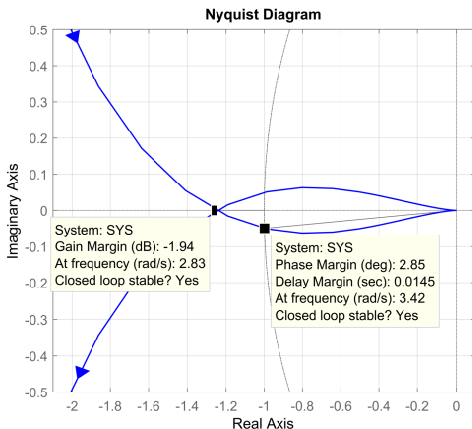
# Solución del Ejercicio 7 (Matlab)

Se elige algún valor de  $K > 16$  para **estabilizar** el sistema en lazo cerrado.

## Matlab

```
K=20;  
SYS=tf([K K],[1 2 -8 0]);  
figure;  
nyquist(SYS);
```

**Estable en lazo cerrado.**



## Ejercicio 8

Se desea controlar un sistema **tipo cero** por computadora, es decir, implementar un lazo de control digital bajo un **paso de muestreo** constante  $T > 0$  y discretizando la FT con el **método del ROC**. La función de transferencia discreta es

$$G(z) = \mathcal{Z} \left\{ \frac{1-e^{-sT}}{s} \cdot \frac{K}{(s+a)} \right\} = K \frac{\alpha}{z + \gamma},$$

con  $a > 0$ ;  $\alpha = \frac{1-e^{-aT}}{a}$ ;  $\gamma = -e^{-aT}$ . Utilice el *criterio de Jury* para determinar los valores de la ganancia  $K > 0$  que aseguran **estabilidad de lazo cerrado**. Sea  $a = 1$ , calcule el valor crítico de la ganancia para  $T = 1$  [s] y  $T = 0.1$  [s], respectivamente.

## Solución del Ejercicio 8

Ecuación Característica

$$F(z) = z + \gamma + \alpha K = 0$$

Arreglo de Jury

$$\begin{array}{c|c} z^0 & z^1 \\ \hline \gamma + \alpha K & 1 \end{array}$$

Condición de Jury 1,  $F(1) > 0$

$$1 + \gamma + \alpha K > 0 \Rightarrow K > 0 \text{ (Trivial)}$$

Condición de Jury 2,  $(-1)^1 F(-1) < 0$

$$-1 + \gamma + \alpha K < 0 \Rightarrow K < \frac{1 - \gamma}{\alpha} = \frac{a(1 + e^{-aT})}{1 - e^{-aT}}$$

Condición de Jury 3,  $|a_0| < a_1$

$$|\gamma + \alpha K| < 1 \Rightarrow K < \frac{1 - \gamma}{\alpha} = \frac{a(1 + e^{-aT})}{1 - e^{-aT}}$$

## Solución del Ejercicio 8 (Numérica)

Ejemplo:  $a = 1$ ,  $T = 1$  [s],  $\alpha = 0.6321$ ,  $\gamma = -0.3679$ .

$$F(z) = z - 0.3679 + 0.6321K = 0 \quad \begin{array}{c|c} z^0 & z^1 \\ -0.3679 + 0.6321K & 1 \end{array}$$

$$F(1) = 0.6321 + 0.6321K > 0, \Rightarrow K > 0$$

$$(-1)^1 F(-1) = -1.3679 + 0.6321K < 0, \Rightarrow K < 2.1641$$

$$|-0.3679 + 0.6321K| < 1, \Rightarrow K < 2.1641$$

Ejemplo:  $a = 1$ ,  $T = 0.1$  [s],  $\alpha = 0.0952$ ,  $\gamma = -0.9048$ .

$$F(z) = z - 0.9048 + 0.0952K = 0 \quad \begin{array}{c|c} z^0 & z^1 \\ -0.9048 + 0.0952K & 1 \end{array}$$

$$F(1) = 0.0952 + 0.0952K > 0, \Rightarrow K > 0$$

$$(-1)^1 F(-1) = -1.9048 + 0.0952K < 0, \Rightarrow K < 20.0084$$

$$|-0.9048 + 0.0952K| < 1, \Rightarrow K < 20.0084$$

## Ejercicio 9

Se desea controlar un sistema **tipo uno** por computadora, es decir, implementar un lazo de control digital bajo un **paso de muestreo** constante  $T > 0$  y discretizando la FT con el **método del ROC**. La función de transferencia discreta es

$$GH(z) = \mathcal{Z} \left\{ \frac{1-e^{-sT}}{s} \cdot \frac{K}{s(s+a)} \right\} = K \frac{\alpha z + \beta}{(z-1)(z+\gamma)},$$

con  $a > 0$ ;  $\alpha = \frac{-1+aT+e^{-aT}}{a^2}$ ;  $\beta = \frac{1-aTe^{-aT}-e^{-aT}}{a^2}$ ;  $\gamma = -e^{-aT}$ .

Utilice el *criterio de Jury* para determinar los valores de la ganancia  $K > 0$  que aseguran **estabilidad de lazo cerrado**. Sea  $a = 1$ , calcule el valor crítico de la ganancia para  $T = 1$  [s] y  $T = 0.1$  [s], respectivamente.



# Solución del Ejercicio 9

## Ecuación Característica

$$F(z) = z^2 + (-1 + \gamma + \alpha K)z + \beta K - \gamma = 0$$

## Arreglo de Jury

$$\begin{array}{c|c|c} z^0 & z^1 & z^2 \\ \hline -\gamma + \beta K & -1 + \gamma + \alpha K & 1 \end{array}$$

Condición de Jury 1,  $F(1) > 0$

$$(\alpha + \beta)K > 0 \Rightarrow K > 0 \text{ (Trivial)}$$

Condición de Jury 2,  $(-1)^2 F(-1) > 0$

$$2(1 - \gamma) + K(\beta - \alpha) > 0 \Rightarrow K < \frac{2(1 - \gamma)}{\alpha - \beta} = \frac{2a^2(1 + e^{-aT})}{2e^{-aT} + aTe^{-aT} + aT - 2}$$

Condición de Jury 3,  $|a_0| < a_1$

$$|-\gamma + \beta K| < 1 \Rightarrow K < \frac{1 + \gamma}{\beta} = \frac{a^2(1 - e^{-aT})}{1 - aTe^{-aT} - e^{-aT}}$$

## Solución del Ejercicio 9 (Numérica)

Ejemplo  $a = 1$ ,  $T = 1$  [s]:  $\alpha = 0.3679$ ,  $\beta = 0.2642$ ,  $\gamma = -0.3679$ .

$$F(z) = \frac{z^2 + (-1.3679 + 0.3679K)z + 0.3679 + 0.2642K = 0}{0.3679 + 0.2642K} \left| \frac{z^1}{-1.3679 + 0.3679K} \right| \frac{z^2}{1}$$

$$\begin{aligned} F(1) &= 0.6321K > 0, & \Rightarrow & K > 0 \\ (-1)^2 F(-1) &= 2.7358 - 0.1036K > 0, & \Rightarrow & K < 26.4073 \\ |0.3679 + 0.2642K| &< 1, & \Rightarrow & K < 2.3925 \end{aligned}$$

Ejemplo  $a = 1$ ,  $T = 0.1$  [s]:  $\alpha = 0.0048$ ,  $\beta = 0.0047$ ,  $\gamma = -0.9048$ .

$$F(z) = \frac{z^2 + (-1.9048 + 0.0048K)z + 0.9048 + 0.0047K = 0}{0.9048 + 0.0047K} \left| \frac{z^1}{-1.9048 + 0.0048K} \right| \frac{z^2}{1}$$

$$\begin{aligned} F(1) &= 0.0095K > 0, & \Rightarrow & K > 0 \\ (-1)^2 F(-1) &= 3.8097 - 0.00016K > 0, & \Rightarrow & K < 23810.625 \\ |0.9048 + 0.0047K| &< 1, & \Rightarrow & K < 20.2553 \end{aligned}$$

## Ejercicio 10

Bosqueje la **traza de Nyquist** del sistema cuya función de transferencia discreta de lazo abierto es

$$G(z) = \mathcal{Z} \left\{ \frac{1-e^{-sT}}{s} \cdot \frac{K}{s(s+a)} \right\} = K \frac{\alpha z + \beta}{(z-1)(z+\gamma)}$$

con  $a > 0$ ;  $\alpha = \frac{-1+aT+e^{-aT}}{a^2}$ ;  $\beta = \frac{1-aTe^{-aT}-e^{-aT}}{a^2}$ ;  $\gamma = -e^{-aT}$ .

Utilice el *principio del argumento* para determinar los valores de la ganancia  $K > 0$  que garantizan **estabilidad de lazo cerrado**, considerando  $a = 1$  y  $T = 1$  [s].

# Solución del Ejercicio 10

Tiempo Continuo    Tiempo Discreto

$$G(s) = \frac{K}{s(s+a)} \quad G(z) = (1 - z^{-1})\mathcal{Z} \left\{ \frac{K}{s^2(s+a)} \right\} = K \frac{\alpha z + \beta}{(z-1)(z+\gamma)}$$

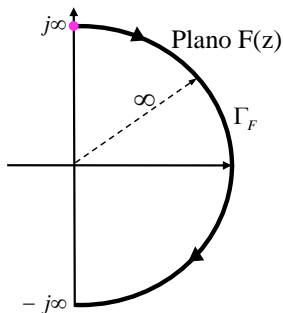
## Tramo 1

Se cambia la variable  $z \rightarrow 1 + \varepsilon e^{j\theta}$ , con evaluación angular  $\theta \in [-90^\circ, 90^\circ]$ .

$$GH(z) = K \frac{\alpha(1 + \varepsilon e^{j\theta}) + \beta}{\varepsilon e^{j\theta}(1 + \varepsilon e^{j\theta} + \gamma)} \approx \frac{K}{\varepsilon e^{j\theta}}$$

Dado el radio  $\varepsilon$  cercano a cero,

$$G(z) \approx \infty e^{-j\theta}$$



## Solución del Ejercicio 10

### Tramo 2

$$G(e^{j\theta}) = K \frac{\alpha e^{j\theta} + \beta}{(e^{j\theta} - 1)(e^{j\theta} + \gamma)}; \quad \theta \in \overline{[0^\circ, 180^\circ]}$$

$\theta \rightarrow 0^\circ$  (y giros completos)

$$G(e^{j0^\circ}) \rightarrow -\infty$$

$\theta \rightarrow 180^\circ$  (y giros completos)

$$G(e^{j180^\circ}) = -K \frac{\beta - \alpha}{2(\gamma - 1)}$$

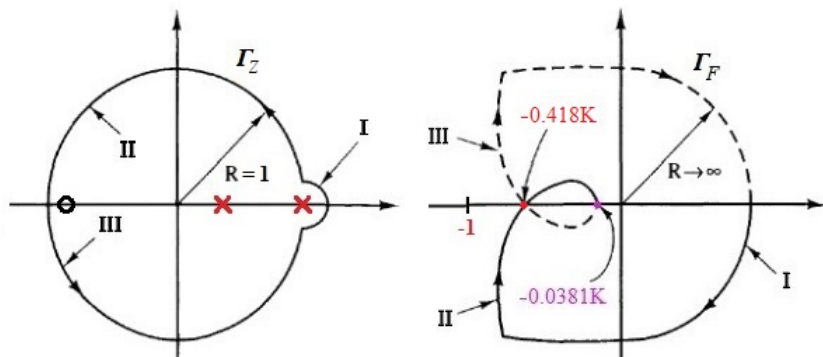
¡Existe cruce con el eje real!

$$\text{Im}\{G(e^{j\theta_c})\} = 0 \Rightarrow \cos(\theta_c) = \frac{\beta(1 - \gamma) - \alpha(1 + \gamma)}{2\beta}$$

†Para  $a = 1$  y  $T = 1$  [s]:  $\alpha = 0.368$ ,  $\beta = 0.264$ ,  $\gamma = -0.368$ .

$$\theta_c = 75.88^\circ; \quad \text{Re}\{G(e^{j75.88^\circ})\} = -0.418K; \quad G(e^{j180^\circ}) = -0.0381K.$$

## Solución del Ejercicio 10 (Principio del Argumento)



**Ningún polo** de  $G(z)$  está por fuera del contorno  $\Gamma_Z$ , i.e.  $P = 0$ . Para que  $F(z) = 1 + G(z)$  no tenga ceros inestables ( $Z = 0$ ), se debe cumplir  $Z = N + P = 0 \Rightarrow N = 0$ , es decir, el contorno  $\Gamma_F$  **no debe encircular** el punto  $(-1, j0)$ . Note que  $0.418^{-1} = 2.392$ .

# Solución del Ejercicio 10 (Matlab)

## Matlab

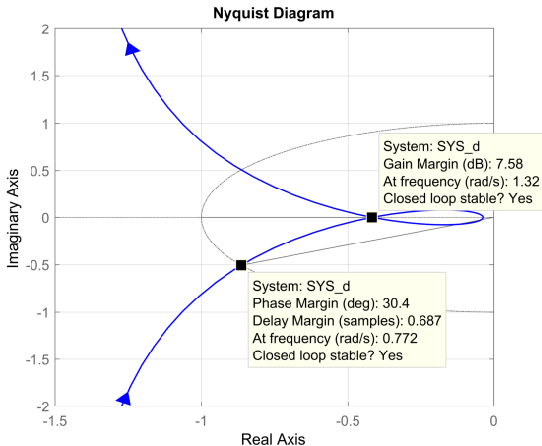
```
K=1; a=1;  
SYS = tf([K],[1 a 0]);  
Ts=1;  
SYSd=c2d(SYS,Ts,'zoh');  
figure;  
nyquist(SYSd);
```

## Márgenes de Estabilidad

$$MF = 30.4 [^\circ]$$

$$MG = 7.58 \text{ [dB]} \text{ (2.392)}$$

**Estable en lazo cerrado.**



## Ejercicio 11

Dada la función de transferencia de lazo abierto

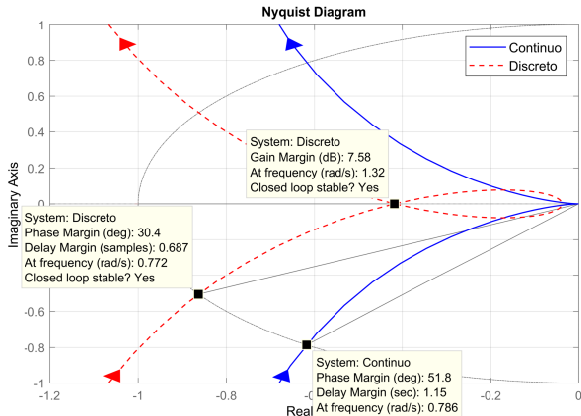
$$G(s) = \frac{K}{s(s+a)},$$

con  $a = 1$ . Utilice Matlab para construir un esquema de control para la **regulación automática** de la salida. Compare la **respuesta al escalón** del sistema en lazo cerrado en sus **versiones continua y discreta**, esta última obtenida con el **método del ROC** bajo el paso de muestreo  $T = 1$  [s] y  $T = 0.1$  [s], respectivamente.



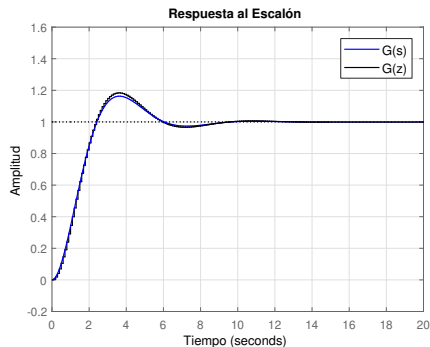
# Solución del Ejercicio 11

```
K=1; a=1;
G=tf([K],[1 a]);
nyquist(G);
hold on;
T=1;
Gd=c2d(G,T,'zoh');
nyquist(Gd);
```

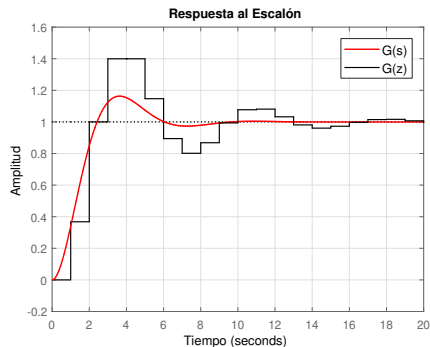


El sistema en **tiempo continuo** tiene  $MF = 51.8^\circ$  y  $MG \rightarrow \infty$ ; cualquier ganancia  $K > 0$  garantiza **estabilidad de lazo cerrado**. En **tiempo discreto** con  $T = 1$  [s] se tiene  $MF = 30.4^\circ$  y  $MG = 7.58$  [dB], es decir, únicamente los valores de la ganancia  $0 < K < 2.392$  aseguran **estabilidad de lazo cerrado**.

# Solución del Ejercicio 11



```
CLP=feedback(G,1);  
step(CLP); hold on;  
T=0.1;  
CLPd=feedback(Gd,1);  
step(CLPd);
```



```
CLP=feedback(G,1);  
step(CLP); hold on;  
T=1;  
CLPd=feedback(Gd,1);  
step(CLPd);
```